

شادی

سان فرسپارک ۱۴۰۲

قاصدک


پایه سوم ابتدایی  
دبستان پسرانه فجر ندای جاوید

فعالیت‌های نوروز ۱۴۰۲ دبستان غیردولتی جاوید منطقه ۲ شهر تهران

نام و نام خانوادگی: .....

نام معلم: .....





یک بار دیگر، بهار همراه با آواز شاد پرندگان و سرسبزی طبیعت از راه رسید.  
درختان لباس زیبای شکوفه برتن کرده‌اند

و این زیبایی شور و نشاط بهاری را به ارمغان آورده است.

چه با سلیقه بوده‌اند، نیاکان و گذشتگان ما که این زیبایی را هم‌زمان با آغاز سال نو  
قرار داده‌اند. پس حال که غرق این همه زیبایی و طراوت شده‌ایم، جا دارد همه با هم  
خداوند منان را شکر کنیم.

پسرم، آغاز سال نو و پر طراوت را که نشانه‌ی قدرت خداوند است، تبریک می‌گویم و سالی  
پر از خیر و برکت، از درگاه خداوند مهربان برای شما و خانواده‌ی محترمت آرزو مندَم.

\* معلّم تو \*







# سال نو مبارک

دانش آموزان عزیز ،  
سلام

با عرض تبریک سال نو خدمت شما و خانواده‌های محترم، با توجه به طولانی بودن تعطیلات و ضرورت حفظ آمادگی درسی شما عزیزان، تمرینات متنوع و مختصری برایتان تدارک دیده شده است. لطفاً طبق برنامه و به تدریج انجام داده و در تاریخ‌های مشخص شده در خصوصی شاد معلّمان محترم خود ارسال فرمایید تا بررسی و تصحیح شود.

دانش آموزان می‌توانند این تکالیف را زودتر از موعد نیز ارسال نمایند ولی دیرتر از زمان مشخص شده ارسال نشود. البته بعد از تعطیلات کلیه تکالیف انجام شده به معلّم کلاس تحویل داده شود.

با احترام- واحد آموزش دوره اول دبستان جاوید

## دستور کار فعالیت‌های نوروز ۱۴۰۲ پایه سوم دبستان پسرانه غیر دولتی جاوید

- ۱- سه پلی کپی فعالیت های نوروزی ریاضی (۳۰۰ امتیاز) زمان ارسال: ۳ و ۷ و ۱۰ فروردین در خصوصی شاد معلم
- ۲- دو آزمون جامع در موزابوک (۲۰۰ امتیاز)
- ۳- شش املا و هر املا ۵۰ امتیاز و جمعا ۳۰۰ امتیاز که سه تا از املا ها به صورت خلاقیتی و انتخابی می باشد و سه تای دیگر را آموزگار محترم کلاس صوت املا را برای دانش آموزان می فرستد و دانش آموز با گوش دادن به آن ، در صفحه مربوط بنویسد
- ۴- تمرینات انتخابی و اختیاری (۳۰۰ امتیاز) : یکی از چهار تمرین زیر را به انتخاب خودتان انجام دهید:
- الف) عکس گرفتن از جاهای دیدنی که سفر کرده اید. (توجه به محصولات آن محل، شغل مردم، آداب و رسوم، آب و هوا، هنر و صنایع دستی و یا هر چیز دیگری که توجه شما را جلب کرده باشد) در قالب پاور پوینت در آورده و زیر هر یک توضیح دهید
- ب) یک کاردستی، نقاشی، آزمایش و یا یک کار هنری را انجام دهد. (البته کار خود دانش آموز باشد)
- ج) فیلم و یا انیمیشن کوتاه اخلاقی که برایتان ارسال شده است را ملاحظه و به سؤالات آن پاسخ دهید (لینک فیلم خدمتتان ارسال می شود)
- د) خواندن یک داستان و مشخص کردن شخصیت های داستان و بگوید پیام و یا درس این داستان چه بود؟





به نام خدا

دبستان غیردولتی فجر ندای جاوید

پایه سوم

کاربرگ نوروزی

نام و نام خانوادگی :

تاریخ :

جوز	ضرب المثل	مأمور	محیطی	مختلف	طبیعت	پاکیزگی	اهمیت	باصفا	غرق
سالن اصلی	موزه	موقعیت	اطراف	اشتیاق	صحرا	انتظار	هویزه	تشکر	موضوع
عظمتی	دهقانان	برگزار	گزارش	ذهن	علت	آغاز	خویشان	گوش نواز	باعث
خاطرات	محل مخصوص	اشغالگران	قطار	تصمیم	طفل	ترقه	معلم	شهادت	ضبط صوت
علاقه	تکیه	سرمشق	مسیر	برزگر	دروازه	تانک	حتی	شعله	صدای بوق
بحث	تعجب	چراغ	خطر	نظم	خواجوی	متوجه	هم نوعان	عده ای	عادت
افتخار	استخر	فرمانروا	احترام	آموزش	می گذاریم	صاحب	معلوم	آلودگی صوتی	اتومبیل

با توجه به واژه های داخل جدول به سوال ها پاسخ دهید .

۱- نام یک مکان ورزشی .

۲- نام مکانی که اشیای قدیمی و گرانها را نگهداری می کنند .

۳- آخرین واژه ی سطر چهارم .

۴- واژه ای که بین واژه ی گزارش و علت آمده است را پیدا کن و برای آن یک هم خانواده بنویس .

۵- نام فداکاری که جان مسافران قطار را از مرگ حتمی نجات داد .

۶- واژه ای که زیر واژه ی "پاکیزگی" است را پیدا کرده و معنی آن را بنویسید .

۷- واژه ای که بالای واژه ی "سرمشق" است را پیدا کن و با آن یک جمله بنویس .

۸- اولین واژه ی سطر هفتم را پیدا کن و معنی آن را بنویس .



۹- پنج واژه که نشانه ی جمع در آن است را در جدول پیدا کن و بنویس. سپس آنها را به ترتیب حروف الفبا مرتب کن.

۱۰- کلمه هایی که تشدید دارند از جدول پیدا کن و بنویس.

۱۱- واژه ی سمت راست واژه ی "تأنک" را پیدا کن و جمع آن را بنویس.

۱۲- سمت چپ واژه ی "اطراف" چه کلمه ای است؟ با آن یک جمله بساز.

۱۳- سمت راست واژه ی "صاحب" را پیدا کن و با آن جمله بنویس.

۱۴- برای کلمه های زیر از جدول، هم خانواده پیدا کن و بنویس.

محترم: ..... طبیعی: .....

اعظم: ..... پاکی: .....

شهاد: ..... مشعل: .....

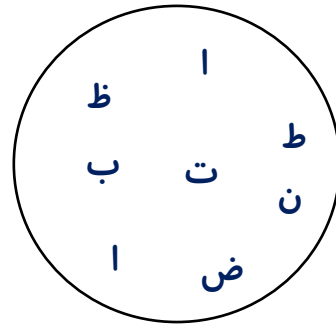
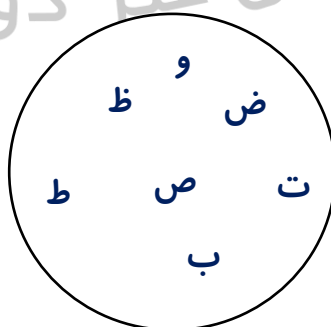
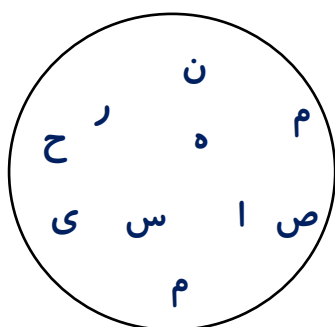
۱۵- واژه ی پایین واژه ی "قطار" را پیدا کن و با آن جمله بنویس.

۱۶- از میان حروف دایره ها، حرف های هر کلمه را پیدا کن و دورشان خط بکش.

انضباط

ضبط

نمی هراسم

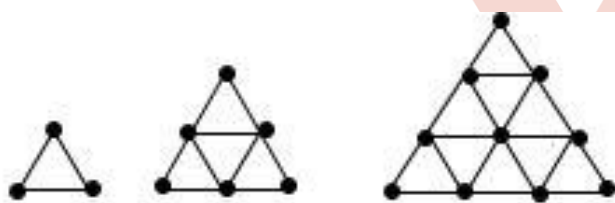




۱۷- به کلمات هر ردیف خوب نگاه کن و هر جزیی از کلمه که جا مانده است را بامداد قرمز کامل کن.

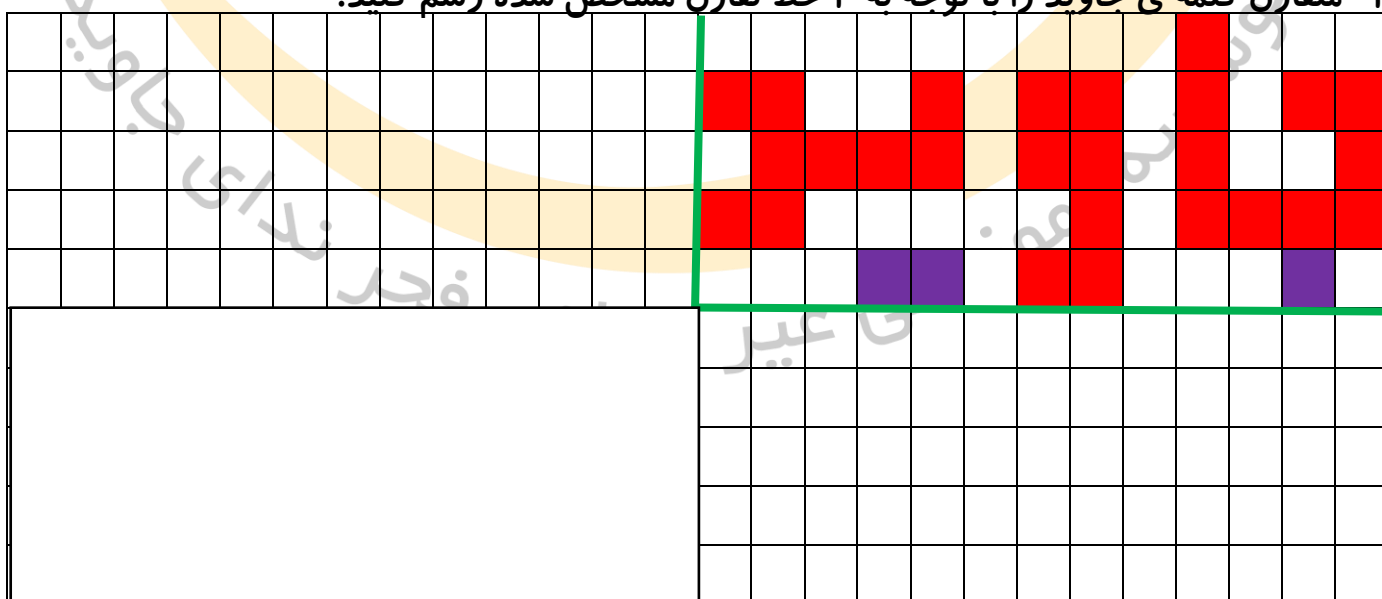
عظمت - عظمت - عظم - ظمت - عصمت - عظمت  
 جنب وجوش - جنب وجوش - جنب وجوش - جنب وجوش -  
 خویشان - خویشان - خویشان - خویشان - خویشان -  
 محافظت - محافظت - محافظت - محافظت - محافظت -  
 نشاط - نشاط - نشاط - نشاط - نشاط -

۱- الگوهای هندسی زیر را تا یک مرحله ادامه دهید.



بدون کشیدن شکل و با استفاده از جدول بگویید شکل هفتم از چند مثلث کوچک و نقطه تشکیل شده است؟

۲- متقارن کلمه ی جاوید را با توجه به ۲ خط تقارن مشخص شده رسم کنید.






۳- علی سکه های ۲۰۰ ریالی خود را در شش ردیف پنج تایی چیده است. او در هر ردیف چند ریال پول دارد؟

تمام پول های او چند تومان است؟

۴- حاصل جمع ها و باقی مانده ی تفريق ها را با حروف در جدول بنويس.



۱-  $۴۳۲ - ۲۳۲ = \dots\dots\dots$

۲-  $۰ \text{ یکی} + ۳ \text{ صدتایی} + ۰ \text{ ده تایی} = \dots\dots\dots$

۳-  $۳۹۴ + ۵۰۸ - ۳ = \dots\dots\dots$

۴-  $۱۱ \text{ یکی} + ۹ \text{ ده تایی} + ۹ \text{ صدتایی} = \dots\dots\dots$

۵-  $۵ \text{ صدتایی} - ۳ \text{ هزارتایی} = \dots\dots\dots$

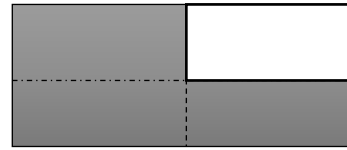
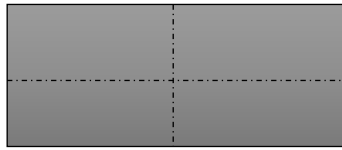
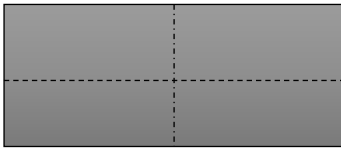
۶-  $۸۹۶۷ - ۳۹۶۴ = \dots\dots\dots$

۷-  $۹۸۰۹ - ۱۸۰۲ = \dots\dots\dots$

۵- مادر کیک تولد علی را به سه قسمت مساوی تقسیم کرد و هر سه قسمت را به ۵ قسمت تقسیم کرد. اگر ۴ قسمت از این کیک های بریده شده خورده شده باشد ، چه کسری از کیک ها باقی مانده است؟ (با رسم شکل حل شود).



۶- به مقدار رنگ شده ی شکل روی محور نشان دهید.



۷- امیر محمد ۱۲ شکلات داشت. ربع آن را به خواهرش داد.

(الف) چند شکلات به خواهرش داده است؟

(ب) چند شکلات برایش باقی مانده است؟

۸- جاهای خالی را پر کنید.

۱۲ متر و  $\frac{27}{100}$  متر یعنی ..... سانتی متر

$\frac{100}{1000}$  کیلوگرم و ۲۴ کیلوگرم یعنی ..... گرم

۹- در یک کارتن ۵ دست لیوان وجود داشت. سه تا از آن ها شکسته است. چند لیوان سالم

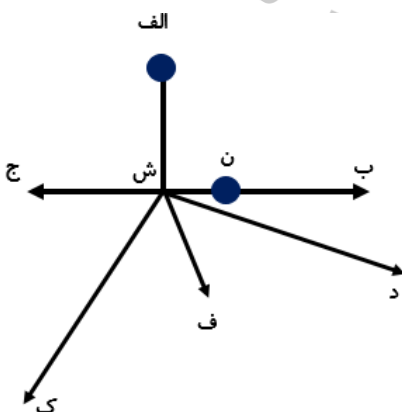
در کارتن وجود دارد؟

۱۰- با توجه به شکل به سوالات زیر پاسخ دهید:

(الف) کوتاه ترین پاره خط؟

(ب) چند پاره خط در این شکل وجود دارد؟

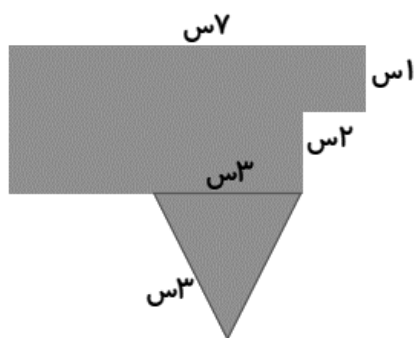
(ج) ۶ نیم خط نام ببرید.



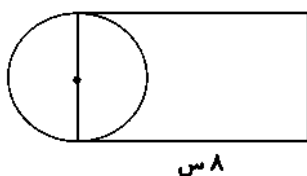


ه) چند خط در شکل وجود دارد؟ نام ببرید.

۱۱- محیط شکل زیر را حساب کنید.



۱۲- با توجه به شکل مقابل اگر شعاع دایره ۳ سانتی متر باشد محیط مستطیل چقدر است؟



۱۳- یک نوزاد با جرم سه و نیم کیلو به دنیا آمد و در پنج ماهگی ۶ کیلو و ۳۲۵ گرم شد.

-نوزاد چه قدر افزایش جرم داشته است؟

۱۴- اگر دومربع به ضلع ۵ سانتی متر را به هم بچسبانیم به طوری که یک مستطیل درست شود،

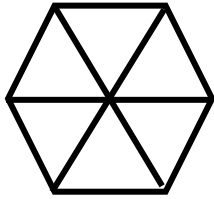
اندازه ی محیط این مستطیل چند سانتی متر خواهد بود؟

۱۵- آرشا ۷۴۶۰ تومان پول داشت . او پنج دفتر ۳۷۵ تومانی خرید . چند تومان از پول او باقی مانده

است؟



۱۶- محیط شکل زیر ۵۴ سانتی متر است . محیط یک مثلث پس از جدا شدن از شکل چه قدر است ؟




۱۷- باقی مانده تفریقی ۳۸۶۴ می باشد . اگر عدد دوم این تفریق ۴۳۲۹ باشد . عدد اول تفریق کدام است ؟

۱۸- با توجه به شکل ، اگر اندازه ی قطر دایره ۱۰ سانتی متر باشد اندازه ی محیط مثلث متساوی الاضلاع چند سانتی متر خواهد بود ؟



۱۹- کشاورزی زمین مستطیل شکل خود را به ۳ قسمت مساوی تقسیم کرد. در نیمی از یک قسمت آن خیار و در دوچهارم یک قسمت دیگر آن پیاز و در پنج هشتم قسمت دیگر گوجه کاشت. چه کسری از زمین خالی باقی مانده است؟ (با رسم شکل حل شود).



۲۰- با رقم های ۰ و ۹ و ۴ و ۵ بزرگ ترین و کوچک ترین عدد چهاررقمی را بنویسید . سپس به سوالات پاسخ دهید .

کوچک ترین :

بزرگ ترین :

گسترده ی کوچک ترین عدد را بنویسید .

بزرگ ترین عدد را به حروف بنویسید .



۲۱- مقایسه کنید .

الف) ۴ سکه ی ۲۵۰ ریالی  یک سکه ی ۱۰۰۰ تومانی

ب) ۵ سکه ی ۱۰۰۰ ریالی و ۲ سکه ی ۵۰۰ ریالی  ۵ سکه ی ۱۰۰۰ ریالی و ۲ سکه ی ۱۰۰ ریالی

ج) ۶ سکه ی ۱۰۰ ریالی و ۲ سکه ی ۵۰۰ ریالی  ۴ سکه ی ۱۰۰ ریالی و ۲ سکه ی ۲۰۰۰ ریالی

$$\frac{3}{5} \quad \square \quad \frac{2}{5} \quad \frac{1}{7} \quad \square \quad \frac{1}{3}$$

$$\frac{7}{7} \quad \square \quad \frac{5}{5} \quad \frac{2}{8} \quad \square \quad \frac{1}{4} \quad \text{۲ واحد و} \quad \frac{2}{8} \quad \text{واحد و} \quad \frac{1}{4} \quad \text{واحد و}$$

۲۲- کوچک ترین عدد چهاررقمی را با ارقام (۳ و ۰ و ۵ و ۷) بنویسید به صورتی که یکان آن ۵ باشد .

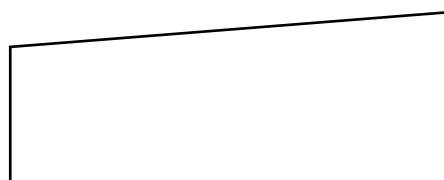

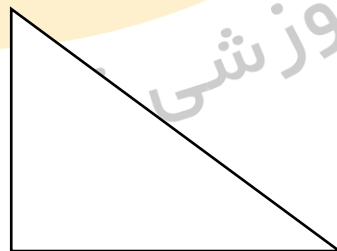
الف ) این عدد را در جدول ارزش مکانی قرار دهید .

ب) رقم صفر در چه ارزش مکانی قرار دارد؟

پ) بزرگ ترین رقم در چه ارزش مکانی قرار دارد؟

ت) ارزش مکانی کدام رقم از همه بیشتر است ؟

۲۳- کدام یک از شکل های زیر گوشه ی راست دارند؟ آن ها را مشخص کنید.





پسرم املائی را که فایل صوتی آن ارسال شده است را اینجا بنویس


املائی شماره یک

توانا بود هر که دانا بود

موسسه آموزشی غیر دولتی فجر ندای جاوید



توانا بود هر که دانا بود



مؤسسه آموزشي غير دولتي فجر ندياي جاويد




توانا بود هر که دانا بود

موسسه آموزشی غیر دولتی فجر خدای جاوید



توانا بود هر که دانا بود



موسسه آموزشی غیر دولتی فجر نژاد